



华图网校  
V.HUATU.COM

SINCE 2001

乐享品质 高效学习

考点遍历卷第5套



# 言语+判断+数量资料

邵爽+蔡金龙+刘有珍

华图网校

## 考点遍历卷（五）

### 言语理解部分

1. 现代科学提倡，每餐要尽可能吃多品种的食物，因为其营养成分可以互相补充，营养更加全面。但是有一个道理被忽略了，这就是食物品种越多，“五味调和”越难保证，食物搭配的合理性和安全性越难保证，出问题的可能性越大。

这段文字主要强调的是（ ）。

- A. 每餐应该尽可能吃多品种的食物
  - B. 现代科学提倡的饮食方法，营养更加全面
  - C. 食物品种多，对身体未必好
  - D. 每餐的食物应该注意“五味调和”
2. 我是学桥梁的，大半辈子都和桥打交道。过去架设连在江河两岸的桥梁，现在看来，更重要的还是要架起科学与人民的桥梁，让千百万群众掌握技术。科学普及工作做好了，科学技术现代化才有基础。

这段话的主要观点是（ ）

- A. 学桥梁的就应该多架桥
  - B. 科普工作是十分重要的
  - C. 人民需要更多的桥梁
  - D. 科学技术也是桥梁
3. 古往今来所有的文化中，星星从来不被认为是物，它们或者是神，或者是最高尚的象征，或者是别的什么符号。因此，把星星看作天体是对人类思想体系的前所未有的冲击。虽然希腊已经有人想到这样的观念，但即使是亚里士多德也没有把星星看作物质体，而仍然把它作为精神的存在物。一旦认识到星星是自然天体后，一个自然而然的想法就是空间是均匀的，并没有层次，在任何方向上均无差别。

这段文字的主要内容是（ ）。

- A. 古往今来，没有人把星星看作物质体
  - B. 把星星看作物质体是对人类思想体系的冲击
  - C. 亚里士多德把星星看作是精神的存在物
  - D. 只要人们认识到星星是天体，就能意识到空间是均匀的
4. 目前，我国正处于产业结构调整的关键阶段。在当前的世界经济危机中，我们已有的外贸主导型经济模式可持续性越来越小。农业是经济危机的避风港，只有通过强农惠农、提高

农业综合生产能力和粮食市场竞争力，来全面提高农民收入，推动农村经济的大发展和广阔的农村市场需求的大升级，才能全面扩大内需，推进我国外向型经济向内向型经济的顺利转型。

对这段文字的主旨概括最准确的是( )。

- A. 当前我国扩大内需最有效的途径应是大力发展农业
- B. 世界经济危机可以成为我国经济转型的一个契机
- C. 当前我国产业结构调整的重点是农业生产结构的调整
- D. 强农惠农政策是当前我国转变经济发展方式的必然要求

5. 张继进京赶考落榜之后的不眠之夜，秋月，乌啼，红枫，渔火，江桥，与寒山寺钟声，撞击在张继的心坎上。于是他推枕头而起，摸黑写下了“枫桥夜泊”四字，成就了一首流传千载的好诗。而当代诗人卞之琳的“你站在桥上看风景/看风景的人在楼上看你/明月装饰了你的窗子/你装饰了别人的梦”，更是深沉含蓄地道出了人与桥之间乃至宇宙万物之间息息相关、互为依存的哲学意蕴。

这段文字主要强调的是( )。

- A. “枫桥夜泊”是张继写的关于桥的好诗
- B. 当代诗人卞之琳的诗比张继的诗哲学意蕴更高一筹
- C. 诗人喜欢把桥写入诗中
- D. 人与桥以及宇宙万物之间都有一种息息相关、互为依存的哲学意蕴

6. 学术没有钱就像艺术没有钱一样，大概是很难发展的。马克思没有恩格斯的资助，怕是写不完《资本论》的——尽管他是天才。杜甫如果不是有当看刺史、节度使，可以给他资助或支一份饷银的高适、严武辈可以投靠，他在成都那些年的生活、创作、都得是另外一幅模样——哪怕他是诗圣。但是，单靠钱也堆不出学术，堆不出艺术。

这段文字的主要意思是：( )

- A. 没有钱，学术和艺术的发展寸步难行。
- B. 马克思和杜甫的成就离不开朋友的资助。
- C. 钱是学术和艺术发展的必要条件。
- D. 只有钱和没有钱一样，学术和艺术都不能得到很好的发展。

7. 据世界卫生组织统计，每年有1200万人过早地被心血管、脑血管疾病夺去了生命，心血管、脑血管疾病的死亡率为各种疾病死亡率之首，而“中风”则是心血管、脑血管疾病的元凶。如果用“养神3分钟”自我治疗预防，每年可使全世界少死300万人，一年也可使我国少死60万人，因为“中风”多发生在夜间，最危险时刻是醒来的“一刹那”。但有绝招可防这“一刹那”，即在苏醒时，养神3分钟，定可逢凶化吉。

本文主要谈的是什么病：（ ）

- A. 中风
- B. 高血压
- C. 心脏病
- D. 脑血管病

8. 实行均衡开放政策，保障国民经济的均衡发展。改革开放以来，我国南部和东部沿海在对外开放中率先起步，进而由沿海到内地，逐步形成梯度开放格局。这种非均衡对外开放战略，在从封闭型经济走向开放型经济初期，有其合理的一面。但是，随着新世纪的到来，我们的经济政策倾斜重点应该向中西部地区扩大和转移，从而实现我国的对外开放从“倾斜开放”向“均衡开放”的战略转变。

这段文字主要强调的是（ ）。

- A. “倾斜开放”的开放政策在改革开放中起到重要的作用
- B. 新世纪到来，我国应该实行均衡开放政策
- C. 倾斜开放政策不能适应当前我国经济形势的发展
- D. 均衡开放政策的含义是我国的经济政策倾斜重点应该向中西部地区扩大和转移

9. 所谓“以 IP 地址或者网络名称作为被告”，其实只是针对预立案程序而言。这样，网络侵权的原告可以申请人民法院调查被告身份的相关信息，可以查实的正式立案审理，无法查明的则不予受理。由此可见，这么做实际是原告请求法院通过其调查权，来查明 IP 地址或者网络名称背后的人，将调查核实“被告人具体身份”的权力转移给了法院。原告并不具备特别调查权，多数公众也都没有技术手段来进行网络追踪。如果法院介入后仍然无法查清，还是不会受理。只要没有明确的被告，原告的诉讼就失去了意义——且不说庭审过程中，“被告”无法进行辩护，就算原告赢得了官司，也没有责任人来承担相应的民事责任。对这段文字的主旨概括最准确的是（ ）。

- A. 介绍网络时代处理法律问题面临的困境
- B. 分析原告在网络侵权案件中所处的不利地位
- C. 解释法院在处理案件时被告人身份确定的重要性
- D. 说明网络侵权案件中明确被告人的方式及其意义

10. 做一件事，往往有利也有弊，只有利而无弊的事情几乎是没有的。《淮南子·人间训》云：“众人皆知利利而病病，唯圣人知病之为利，利之为病也。”看来古人已经注意到利弊的辩证关系。

本文的主旨是（ ）。

- A. 现实生活中的事情都由利与弊组成
- B. 要善于分析，争取做到利大于弊
- C. 利与弊不是绝对的，是可以转化的

- D. 我们应当努力争取做到有利无弊
11. 英国保守党党魁亲自在广告中招揽年轻人，工党设有青年工党全国委员会，并在 2005 年修订的党章中指出，要争取年轻人对工党理念和主张的共鸣；自由民主党甚至放松年龄，连 12 岁的儿童都可以加入其青年组织。这也推动了政党领袖的年轻化趋势，给英国政界带来了活力；前工党首相布莱尔 44 岁就上任，现任首相卡梅伦 39 岁就当上了保守党领袖。
- 这段文字意在说明（ ）。
- A. 英国鼓励青年从政的文化和环境俱佳  
B. 英国的三大政党都重视吸收年轻成员  
C. 英国年轻人有着较强的参政意识  
D. 英国政党领袖年轻化的趋势日趋明显
12. 在一个组织和团队中（尤其是庞大的组织），工作合作和依赖会变得错综复杂，沟通的数目和工作成果的数量会扩展到成千上万。举一个最典型的例子，一个软件开发团队要包括分析和开发人员，他们要根据不同工作范围的用户组的需求来写软件，写成后还要由另一队人马在不同环境中测试，在使用阶段还必须长期维护并开发下一个版本。如此开发过程中，成果转移、交接的次数，责任重叠的几率会倍增。因此，项目经理不得不花大量时间处理令人头疼的智力成果传递、协调问题。只有引入规范的承诺管理才能有效控制这种局面。
- 这段文字作者最想强调的是（ ）。
- A. 在一个庞大的组织中，工作合作和依赖非常复杂  
B. 要有效处理智力成果传递、协调问题，就必须引入规范的承诺管理  
C. 软件开发团队需要分析和开发人员的分工协作  
D. 项目经理必须要花大量的时间处理智力成果传递、协调问题
13. 一只小型广告灯箱一年可以杀死约 35 万只昆虫，亮如白昼的夜晚还会严重影响昆虫，特别是成虫的生命周期。昆虫是大自然食物链上的一个重要环节，很多小型动物、鸟类和蝙蝠以昆虫为主要食物，许多植物靠昆虫传授花粉，如果昆虫的种类和数量发生变化，必将严重影响生态环境。过度的照明对能源的浪费和环境污染的压力更是不言而喻。
- 这段文字意在强调（ ）
- A. 光照对动植物生长的主要影响  
B. 自然界各物种之间的关联密切  
C. 昆虫在自然界中的重要作用  
D. 光污染对自然生态平衡的干扰
14. 不论是用笔还是用电脑撰写文章，最重要的肯定是要言之有物。但除了内容之外，形式也是很重要的。尤其是使用文字处理软件撰写文章、专著，如果懂得如何快速、巧妙地设置

格式，不仅可以使文稿样式美观，更可以加快编写速度。而如果不懂得这些基本的格式化手段，编辑起文稿来，就会感到处处受到束缚，写作过程也难以顺畅，影响工作效率。

这段文字意在表明（ ）。

- A. 撰写文章一定要言之有物
- B. 写文章，内容重于形式
- C. 用文字处理软件撰写文章要懂得基本的格式化手段
- D. 使用文字处理软件撰写文章可以提高工作效率

15. 今人看书，普遍过于浮泛，如蜻蜓点水，不若古人之沉潜把玩。这是因为现在需要看的東西太多了，没时间，只好一目十行，都是“知道了”。还有一点，五四以前，我们太尊信古人；五四以后，我们又太藐视古人。都想开天辟地，都是前无古人，写自己的书都来不及，哪还有心思抄别人的书？

这段文字主要谈论的是（ ）。

- A. 古人看书沉潜把玩
- B. 今人看书过于浮泛的原因
- C. 今人为什么没有心思抄别人的书
- D. 时代要求我们不能像古人那样看书

16. 由于采集发菜通常使用钉耙“搂”的方式，在采集的同时也对地表的植被造成了毁灭性的破坏，这让本来就十分脆弱的草原和荒漠生态环境更加恶化，失去了植被保护的土壤容易被侵蚀。过度采集发菜已经对中国西部地区的生态造成了破坏，受影响面积甚广。

这段文字意在表明（ ）。

- A. 采集发菜让草原和荒漠生态环境更加恶化
- B. 采集发菜的方式有待改正
- C. 过度采集发菜对我国的生态造成了破坏
- D. 应采取措施控制对发菜的采集

17. 人类已经进入到知识经济时代。人才、知识、科技、教育等要素，在经济社会发展中的重要性日益凸显。高等教育作为高端人才培养和科技创新的主阵地，已经成为经济社会发展的重要引擎；高等教育发展的质量，已经成为影响一个国家和民族发展能力的重要因素。新的形势，迫切要求高等教育深化改革，更进一步增强社会服务功能，更加深入地参与到经济社会发展中来，参与到改革发展的时代大潮中来。

这段文字意在说明（ ）。

- A. 新形势下高等教育改革的迫切性和改革方向
- B. 新时期高等教育应为经济发展培养更多的高素质人才



- C. 知识经济时代为高等教育进一步改革提供了广阔空间  
D. 知识经济时代高等教育肩负的责任越来越重大
18. 当年韩愈被贬到潮州做刺史，虽然只有8个月的时间，却不怕费力，大力兴办州学，捐出所有的俸银，用作办学费用，并积极推广唐朝的普通话，“以正音为潮人诲”。8个月后，韩愈就调离了潮州，几乎没有什么“政绩”可言，然而他给潮州留下了巨大的精神财富。到南宋时，潮州已是文化名城，有了“海滨邹鲁”的美誉。
- 这段文字意在说明：（ ）
- A. 语言规范化是一项长期的工作  
B. 潮州成为历史文化名城的原因  
C. 文化建设对城市有深刻的影响  
D. 评价官员不应只看短期的政绩
19. 一时期的风气经过长时期而能保持，没有根本的变动，那就是传统。传统有惰性，不肯变，而事物的演化又使它不得不以变应变，于是产生了一个相反相成的现象。传统不肯变，因此惰性形成习惯，习惯升为规律，把常然作为当然和必然。传统不得不变，因此规律、习惯不断地相机破例，实际上作出种种妥协，来迁就事物的演变。
- 这段文字中“相机破例”的含义是（ ）。
- A. 把握时机，委曲求全  
B. 等待时机，破除习惯  
C. 顺应形势，改变常规  
D. 因势利导，不拘一格
20. 西藏的一些高僧往往以经年累月的光阴用五彩细砂砌成巧夺天工的曼荼罗图案，整个过程中，作业者口诵经文，心存敬意、屏息凝视、一丝不苟，几经辛苦，到了功行完满的一刻，却会毫不留恋地一手抹掉，这一种态度，对惯于享用先进科技和讲求功效的现代人来说，骤看简单不可思议，但细心省察下，却寓意深远。
- 最准确表达这段文字中“寓意”的意思的是：（ ）
- A. 人生的一切繁华景象归根到底都是无常的  
B. 应对生命保持高度的敬畏感  
C. 应认真庄严地投入生活又不为生活中的得失所累  
D. 生命的意义在于追寻精神上的安顿
21. 寻找地球外的智慧生物一直是人们乐此不疲的工作。如果“外星人”确实存在，他们居住的星球应该和我们的地球具有大致相同的环境。科学家已就这一点基本达成共识，他们正努力在太阳系外寻找“第二地球”，也就是所谓的类地行星。

文中“这一点”指的是（ ）。

- A. “外星人”确实存在
- B. 太阳系外一定会有类地行星
- C. 地球外一定会有智慧生物
- D. 如果“外星人”存在，那么就肯定会有类地行星

22. 科学和艺术有一个不相同的地方：科学讲求最新的发现、最新的定律和方程式，花样永远翻新，永远直向前跑。艺术就不大有这样的方便，不论古今中外，没有现成的定律或方程式可以供我们抄袭应用，从而使艺术像科学研究那样形成接力赛跑式的进步。此中微妙精义，父亲不能传授给儿子，母亲亦不能指点给女儿，一切都得靠自己再从头开始。

“此中微妙精义”的“此”是指（ ）。

- A. 艺术创作或欣赏等活动
- B. 科学与艺术之间的差别
- C. 古今中外所有艺术成果
- D. 家族中世代相传的绝技

23. 【《新京报》1月9日报道】1月8日9时30分许，“大洋一号”科考船离开青岛团岛码头，开始执行中国第19次大洋科考任务。此前，据该航次首席科学家陶春辉介绍，本航次科考的主要任务是以2005年中国首次环球科考的成果为基础，开展海底热液系统的资源探查及相关的科学和环境调查；同时继续对富钴结壳、多金属结核及其相关的基础科学问题开展调查。考察区域将涉及西南印度洋、西南太平洋和西太平洋的部分海域。

最适合做这一段新闻标题的是（ ）。

- A. “大洋一号”要开展海底资源的探查和科考任务
- B. “大洋一号”开始执行中国第19次大洋科考任务
- C. “大洋一号”将要执行远距离航行的科考任务
- D. “大洋一号”的科考任务非常艰巨

24. 第二次世界大战期间，美国严格实行配给制度，每人每天只能喝一杯咖啡。一天，罗斯福在招待会上对记者说，他早上喝过一杯咖啡，晚上又喝了一杯。记者们听了马上质问：“我们每人每天只有一杯咖啡，你哪里来的两杯？”不少记者以为，这下可是捞到了头版头条的大新闻了。面对记者的责难，罗斯福一点也不激动地回答说：“我确实是早晚各饮一杯咖啡。不过，晚上我是把早晨煮过的咖啡渣再煮一次。”从此，人们就把煮过后再煮的咖啡叫作“罗斯福咖啡”。

最适合做本段文字标题的是（ ）

- A. 罗斯福的故事
- B. 罗斯福与记者
- C. “罗斯福咖啡”的喝法



- D. “罗斯福咖啡”的由来
25. 电脑的出现，在很大程度上改变了我们的生活。坐在电脑前打字、浏览，越来越多地替代了提笔写字、捧书阅读。但电脑在带来便捷的同时，也对传统文化造成了强大的冲击，即便是一些优秀的传统文化也离我们渐行渐远。书法是中华文化的瑰宝，是民族精神的体现，但在电脑面前，练习毛笔字的群体正在萎缩，充满魅力的书法作品也正逐渐淡出人们的视野。保护传统文化、保护书法艺术刻不容缓。
- 下列选项中，最适合做本段文字标题的是( )。
- A. 电脑时代保护书法艺术刻不容缓  
B. 即便在电脑时代也应让书法传承下来  
C. 电脑时代传统文化一定不能淡出  
D. 电脑时代学习书法就是继承民族精神
26. 通常而言，鸟类坚韧而又灵活的羽毛是由角蛋白纤维构成的。这些角蛋白纤维构在一起组成一个平面，进而形成羽毛。羽毛有很多种：飞羽的各个羽支连成一片使鸟能够飞行；廓羽覆盖鸟全身，使身体呈流线型；绒羽蓬松柔软，用来保护鸟类体温。
- 最适合做本段标题的是( )。
- A. 鸟类羽毛的使用  
B. 鸟类的各种羽毛  
C. 鸟类的羽毛  
D. 鸟类羽毛的结构、种类及功能
27. 过去几十年，中国社会淡化了民族民俗。随着人们生活富裕，需要用一个个节日掀起娱乐高潮，这时发现我们的传统节日“贫乏”，难以满足人们的精神文化需求，于是，那些富于人情味的洋节便顺理成章地钻入了中国人的生活。
- 这段话对洋节进入中国人生活的态度是( )。
- A. 理解  
B. 赞成  
C. 反对  
D. 无所谓
28. 很多音乐评论者在阐述音乐时，往往借助浪漫主义的理念给音乐附加上许多文学性的描写。于是，那音符一跑起来，就是什么疯狂的、愤怒的、社会的，这些字眼总是先于音乐出来了。在评论者本人，这或许是一种很自我的感觉；但对一般听众而言，他们由此获得的参考却未必有益；很多人可能把阅读那些貌似优美的文字代替亲耳聆听感受音乐。
- 这段话的真正含义是( )。
- A. 知识分子阐述音乐过于浪漫主义  
B. 音乐是无法用语言文字来阐释的  
C. 真正听音乐才能感受音乐的含义  
D. 通过文字来理解音乐是不可能的
29. 最近，研究人员开发出一种新型锂电池，有望广泛用于笔记本电脑、手机等电子产品。传统的锂电池使用液态电解质，并用一层聚合物薄膜隔开正负极，而在这种新型锂电池中电

池的正负极被融合到一起，制作出一种类似果冻的胶状物。这种胶状物看起来是固态的，但其中 70%的成分是液体电解质，可以很好地起到导电作用。新型锂电池功能与传统锂电池相当，突出优点在安全方面。传统锂电池如封装工艺不好，起火和爆炸的风险相对较高，而使用胶状物的新型锂电池相比之下就要安全得多。

根据这段文字，可以知道（ ）。

- A. 新型锂电池的胶状物燃点更高所以更安全
- B. 传统锂电池不需要聚合物隔膜隔开正负极
- C. 新型锂电池已广泛使用于手机等电子产品
- D. 两种锂电池的内部结构相异但导电原理相同

30. 在战争问题上，日本政府一直采取蒙混过关的态度，不去正视历史，还声称日本没有像希特勒那样的战争狂人，企图将某个民族像犹太人那样灭绝掉。在面对二战造成的灾难时，也往往一味强调日本受到的伤害，俨然以二战的受害者自居，尤其是一些右翼政客，置周边国家人民的强烈反对于不顾，屡次三番地去靖国神社参拜；相反，却对被侵略国家人民遭受的创伤轻描淡写，根本就不提对战争罪行谢罪之事。

根据这段文字，下列说法错误的是（ ）。

- A. 日本在二战中也受到了伤害
- B. 日本没有战争狂人
- C. 日本的有些政客经常去参拜靖国神社
- D. 中国反对日本政客去参拜靖国神社

31. 通常人们认为，废旧的老式电视机显像管(阴极射线管)是一种含有毒物质的废料。但一项新研究显示，这种废料也许有用。研究人员在放射性活度 800 万亿贝克勒尔的钴放射源和测量辐射剂量的仪器之间放置阴极射线管玻璃的碎屑，以测定其屏蔽放射线的能力。分析结果表明，即使对阴极射线管的玻璃碎屑不进行任何加工，55 厘米厚的玻璃碎屑就能使辐射剂量下降至原来的 1%，这相当于约 9 厘米厚的铅板的屏蔽能力，而铅被认为是迄今为止吸收、屏蔽核辐射能力最强的物质。如是将玻璃碎屑和粉碎阴极射线管产生的玻璃粉混合到一起，那么约 40 厘米厚就能达到上述效果。

关于阴极射线管的玻璃碎屑，以下说法正确的是（ ）。

- A. 吸收核辐射的能力和铅不相上下
- B. 厚度增加，其屏蔽核辐射的能力也会提高
- C. 其含有毒物质的观点受到质疑
- D. 对其加工的精细程度会影响屏蔽核辐射的能力

32. 每个人都有命运不公平和身处逆境的时候，这时我们应该相信：\_\_\_\_\_。许多事情刚

开始时，丝毫看不见结果，更谈不上被社会所承认。要想成功就应付诸努力，既不要烦恼，也不要焦急，踏踏实实地工作就会得到快乐。而一心盯着成功的果实，肯定忍受不了苦干的寂寞，到头来只会半途而废，甚至一无所获。

填入横线上最恰当的是( )。

- A. 好事多磨  
B. 一分耕耘一分收获  
C. 冬天已来临，春天还会远吗  
D. 道路是曲折的，前途是光明的

33. 如果世界上艺术精华，没有客观价值标准来保护，恐怕十之八九均会被后人在权势易主之时，或趣味改向之时，毁损无余。在欧美，古建实行的保存是比较晚近的进步。十九世纪以前，古代艺术的破坏，也是常事。幸存的多赖偶然的命运或工料之坚固。十九世纪中，艺术考古之风大炽，对任何时代及民族的艺术才有客观价值的研讨。保存古物之觉悟即由此而生。

作者接下来最可能讨论的是( )

- A. 我国古建保护不足的后果  
B. 我们应该怎样保护古建筑  
C. 艺术考古之风大炽的原因  
D. 欧美国家怎样保护古建筑

34. ①因此把才学比作剑，当使用的时候就拿出来，而不用的时候就藏入鞘中。不将其把玩炫耀，否则，很少有不因此而得祸的。

②自古以来，才学外露的都遭到灾祸，没有一个幸免，怎么不令人为此忧心忡忡呢？

③才学是君子用来进行身心的修养，而并非用来自负骄矜的工具；君子是以才学来治理社会，而并非用以自夸炫耀的。

④之所以这样说，并非才能和学识本身有什么过错，而是错误应用造成的。

⑤没有才能和学识士人会感到羞耻；具备才能和学识，士人会因此而担忧。

将以上 5 个句子重新排列，语序正确的是( )。

- A. ⑤④③①②  
B. ②①④③⑤  
C. ②④①③⑤  
D. ③⑤④②①

35. 有研究表明，生物大灭绝在历史上发生过二十几次，大约每 2600 万年发生一次，似乎具有\_\_\_\_\_。对于物种大灭绝的发生是否真的如此频繁和有规律，还有争议。但即便是最\_\_\_\_\_的估计，也认为至少有 5 次物种大灭绝是非常明显的。

填入横线部分最恰当的一项是( )。

- A. 必然性 乐观  
B. 规律性 简单  
C. 突发性 粗略  
D. 周期性 保守

36. 长久以来，美国的一些政客每谈到社会制度和经济模式，总是表现出\_\_\_\_\_的架势，常常以美国制度来教育别人。经过这次金融危机，不知道这些政客会不会\_\_\_\_\_一下美国政治体制自身存在的问题。

填入画横线部分最恰当的一项是（ ）。

- A. 洋洋自得 估量  
B. 舍我其谁 考虑  
C. 唯我独尊 反思  
D. 狂妄自大 思考

37. 泰坦尼克号幸存者史密斯夫人这样回忆：当时我的两个孩子已被抱上救生艇，因为\_\_\_\_，我不能上了，出于母爱，我喊了一声“让我上船吧，孩子不能没有妈妈！”闻听此言，一位已经坐上此艇的女士离开了座位，回到了泰坦尼克号，并把我推上了小艇。一会儿工夫，船便\_\_\_\_了，那位女士连自己的姓名都没留下。

填入画横线部分最恰当的一项是（ ）。

- A. 超重 湮没  
B. 超载 淹没  
C. 超重 下沉  
D. 超载 沉没

38. “仓廩实而知礼节，衣食足而知荣辱”，在物质生活极大丰富之后，国人开始意识到，以前把礼仪礼貌当作资产阶级作风加以\_\_\_\_\_的做法是多么\_\_\_\_\_。

填入画横线部分最恰当的一项是（ ）。

- A. 批评 荒唐  
B. 模仿 滑稽  
C. 打击 可憎  
D. 批判 可笑

39. 这些“搭配”的爱情，有一种把孤独拉得很长，把日子盼得很瘦的相思，\_\_\_\_\_而茂盛地生长。这是军人和他们的妻子恋人们共同培养的感情收成，供他们以书信方式分期分批地\_\_\_\_\_那一份痛苦的甜蜜。

填入横线部分最恰当的一项是（ ）。

- A. 勃然 分享  
B. 繁荣 品尝  
C. 欣欣 分担  
D. 蓬勃 品享

40. 他不惯于跟人在这类题目上争论。况且这些话并不是他独创的见解，叫别人听了会冷笑——“哼，逸漠先生只会\_\_\_\_\_！”

填入横线部分最恰当的一项是（ ）。

- A. 实至名归  
B. 拾人牙慧  
C. 拾遗补阙  
D. 食古不化

41. 周敦颐通过自己的努力，丰富和发展了儒家思想理论体系，开拓了儒学发展的新境界，使之\_\_\_\_，一扫魏晋南北朝及隋唐五代的\_\_\_\_，回归到原有的正统地位，赢得了与释、道竞争的全面胜利，取得了意识形态的主导权。

依次填入划横线部分最恰当的一项是（ ）。

- A. 独树一帜 弊端
- B. 柳暗花明 萧条
- C. 脱胎换骨 落寞
- D. 焕然一新 颓势

42. 站在奥运会组织者的角度看，以拍卖方式处理这些数日不菲的奥运资产，让这些带有奥运符号的物品经拍卖师之槌，变为数量可观的回收现金，\_\_\_\_开拓出一条奥运投资成本回收的新渠道，\_\_\_\_进一步拉长奥运品牌营销的价值链，\_\_\_\_能借此继续向公众传递奥运符号、传播奥运文化，\_\_\_\_延续其奥运记忆，维护其奥运热情，算得上是一箭双雕甚至数雕之填入画横线部分最恰当的一项是（ ）。

- A. 不仅 而且 还 甚至
- B. 虽然 但是 因为 所以
- C. 既 又 还 从而
- D. 不管 也 并且 从而

43. 事实上，转基因食品\_\_\_\_是安全的，\_\_\_\_往往要比同类非转基因食品更安全。种植抗虫害转基因作物能不用或少用农药，\_\_\_\_能减少或消除农药对食品的污染，而大家都知道，农药残余过高一直是现在食品安全的大问题。

填入画横线部分最恰当的一项是（ ）。

- A. 虽然 但 所以
- B. 尽管 但 因此
- C. 不仅 而且 因而
- D. 虽然 但 因此

44. 阿 Q 和一切不朽的文学典型一样，是说不尽的。不同时代、不同民族、不同阶段、不同文化程度的读者从不同的角度、侧面去解读它。甚至同一个读者在人生的不同阶段对它都会有不同的理解。这些不同的解读和理解构成了一部阿 Q 接受史，这部接受史没有终结，也永远不会终结。

下列说法与这段文字不符的是（ ）。

- A. 阿 Q 的形象随着时代发展不断丰富
- B. 对阿 Q 的解读是个常说常新的话题
- C. 对阿 Q 的解读与读者自身阅历有关
- D. 未来的人民对阿 Q 会有更新的解读

45. 放风筝时，人们凝视自己的作品摇曳于万里晴空、蓝天白云之上，欣慰、恬静、平和之情油然而生，这种精神状态有益于高级神经活动的调节，能健全和强化神经系统支配下的组织、脏器的生理机能。人们抖空竹时，随着上肢的运动，极大地锻炼了肌纤维：骨骼肌有节奏地压挤动、静脉，血流加速，公共积累充分，防止了局部血液淤滞，增强了细胞、组织的新陈代谢，使肩关节肌纤维、韧带、局部神经、血管的功能得以维护和增强。

对上述这段话的准确概括是（ ）

- A. 民间游戏其乐无穷
- B. 民间游戏活动能够治疗疾病
- C. 传统游戏活动有娱乐和健身作用
- D. 应当大力实践民间传统游戏活动

46. 去年 5 月，美国华盛顿地区法院法官凯思勒判定美国烟草公司在过去 50 年内因隐瞒吸烟危害性而获得了非法利润，因此判定对烟草公司予以 2800 亿美元的罚款。今年 2 月，美国哥伦比亚地区上诉巡回法院推翻了凯思勒的判决。当案件上诉到美国最高法院后，法官们拒绝复审哥伦比亚地区上诉法院的裁定，维持了原判。

对这个长句理解正确的一项是（ ）。

- A. 凯思勒对烟草公司处以 2800 亿美元罚款的裁决最终有效
- B. 凯思勒对烟草公司处以 2800 亿美元罚款的裁决最终无效
- C. 美国最高法院维持了凯思勒对烟草公司施以罚款的原判
- D. 此案以美国烟草公司被处以 2800 亿美元巨额罚款而终结

47. 从 1901 年到 1961 年，诺贝尔文学奖几乎完全为欧美白人垄断；60 年代后亚、非、拉美作家占多数；90 年代则完全没有欧美白人作家获奖。而 60 年代以后正是欧美科学技术突飞猛进的时代。这是否意味着科学技术的发展会使文学作品失去人文魅力？

这段话主要支持了这样一种观点，即（ ）。

- A. 科技高度发展可能使文学中的人文精神走向浅薄
- B. 不排除技术和科学的干扰，就没有优秀文学作品
- C. 真正优秀的文学作品产生在落后的国家和地区
- D. 科技发展是以文学作品丧失人文魅力为代价的

48. 吴越历史舞台的中心在哪里，多年以来一直是学者与公众共同关注的焦点。尽管古籍文献对此有所\_\_\_\_，但是多\_\_\_\_，有的虽言之凿凿却只是演义。

依次填入画横线部分最恰当的一项是（ ）。

- A. 论证 浮光掠影
- B. 涉及 穿凿附会
- C. 记载 语焉不详
- D. 描述 轻描淡写

49. 留学异国的人常有“边缘人”的苦闷。人们显然不可能在进入一块陌生国土的同时，就在一瞬间也加入它的文化，而原来的文化背景又会由于天长地远而渐渐疏离。在实际生活中，两种\_\_\_\_\_的文化，会经常骤然直率地在我们面前相遇、碰撞，一开始真有无所适从亦



无可躲避的\_\_\_\_\_。

依次填入划横线部分最恰当的一项是（ ）。

- A. 水火不融 尴尬
- B. 截然不同 窘迫
- C. 南辕北辙 狼狈
- D. 针锋相对 失落

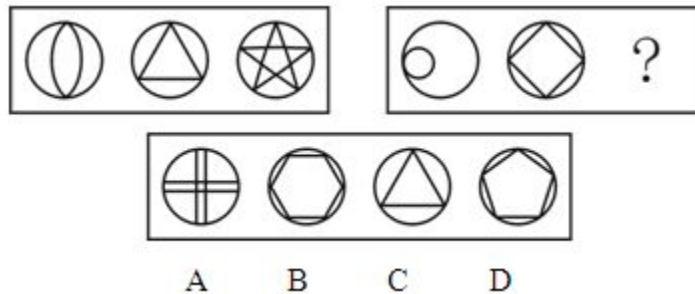
50. 无

【参考答案】有问题请加新浪微博：@郜爽 ID

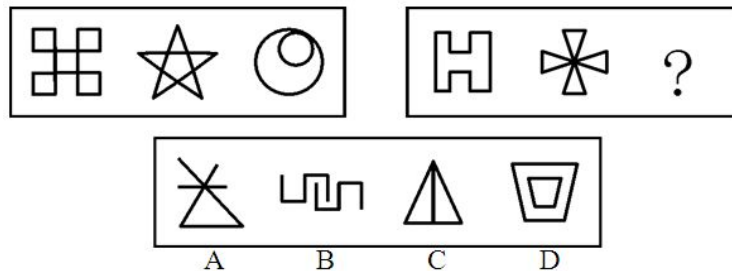
1-5	6-10	11-15	16-20	21-25
CBBDD	DABBC	DBDCB	DACCC	DBBDA
26-30	31-35	36-40	41-45	46-50
DACDB	DBDAD	CDDDB	DCCAC	BACB

### 判断推理部分

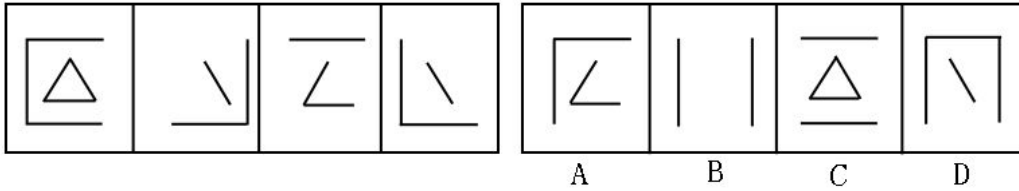
51. 从所给的四个选项中，选择最合适的一个填入问号处，使之呈现一定的规律性：



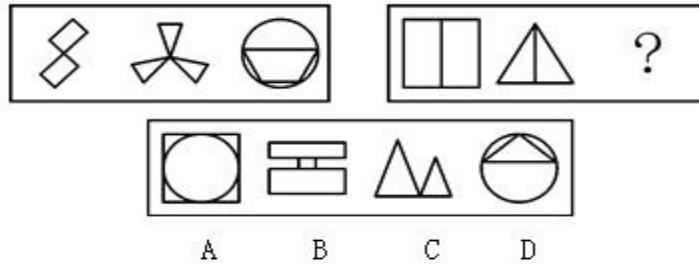
52. 从所给的四个选项中，选择最合适的一个填入问号处，使之呈现一定的规律性：



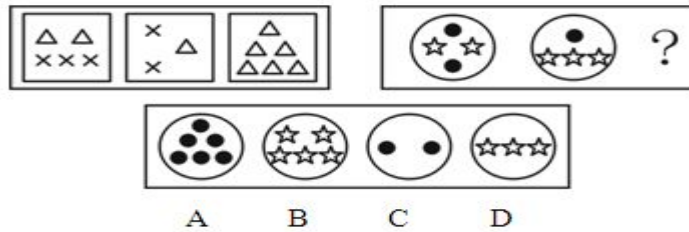
53. 从所给的四个选项中，选择最合适的一个，使之呈现一定的规律性。



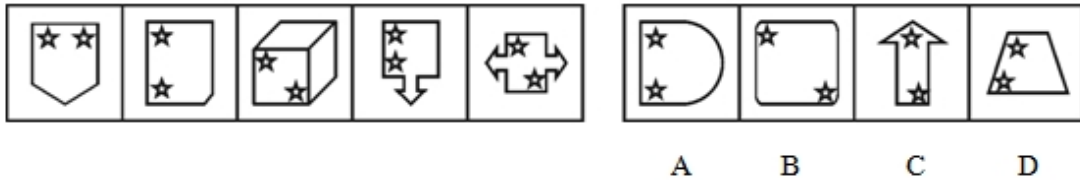
54. 从所给的四个选项中，选择最合适的一个填入问号处，使之呈现一定的规律性：



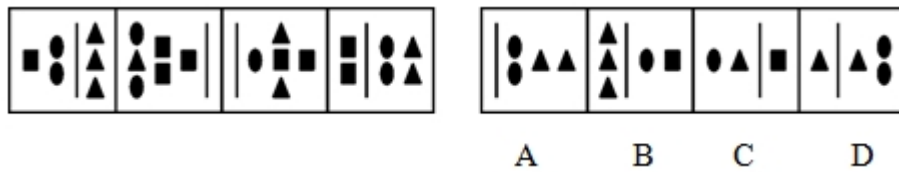
55. 从所给的四个选项中，选择最合适的一个填入问号处，使之呈现一定的规律性：



56. 从所给的四个选项中，选择最合适的一个，使之呈现一定的规律性。



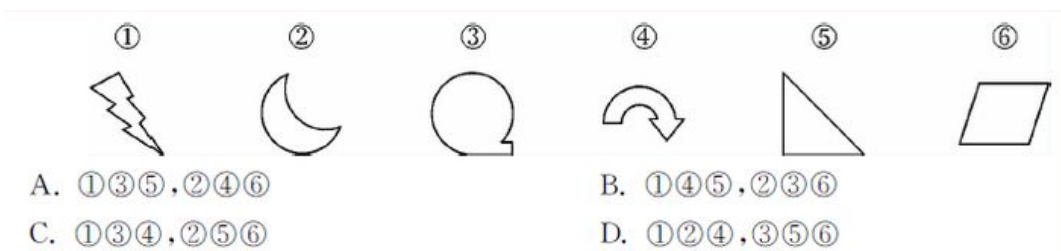
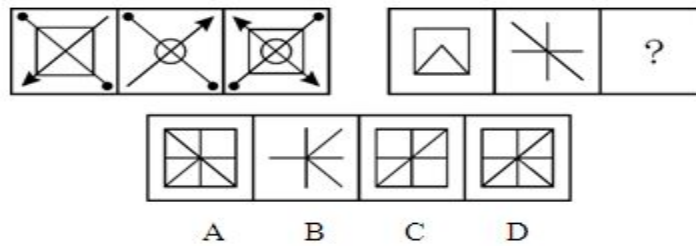
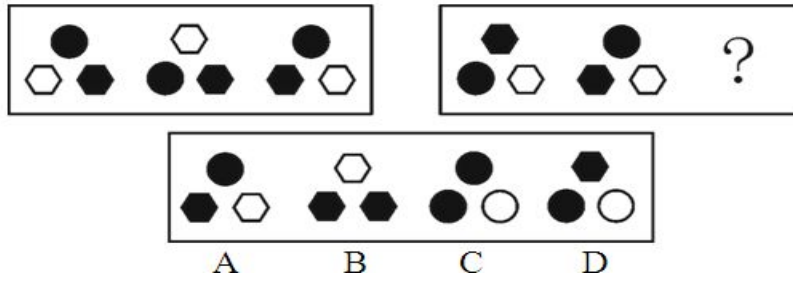
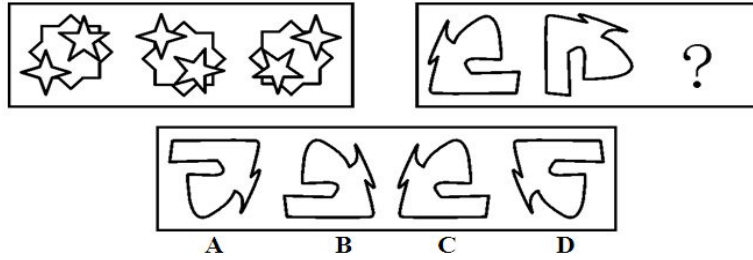
57. 从所给的四个选项中，选择最合适的一个，使之呈现一定的规律性。




58. 从所给的四个选项中，选择最合适的一个，使之呈现一定的规律性。

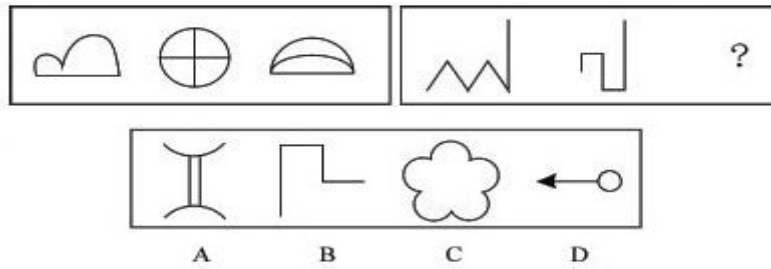


59. 从所给的四个选项中，选择最合适的一个填入问号处，使之呈现一定的规律性：

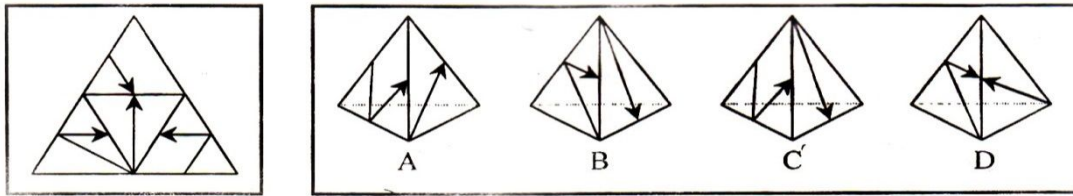




64. 从所给的四个选项中，选择最合适的一个填入问号处，使之呈现一定的规律性：



65. 左边给定的是纸盒的外表面，下面哪一项能由它折叠而成？



66. 从所给的四个选项中，选择最合适的一个，使之呈现一定的规律性。



67. 山芋:红薯

- A. 番茄:西红柿
- C. 才华:才干

- B. 菜籽:油菜
- D. 烟斗:香烟

68. 物质:意识

- A. 发展:运动
- C. 成功:勤学

- B. 权利:义务
- D. 劳动:懒惰

69. 学生:青年
- A. 社会:自然  
B. 热血:激情  
C. 游戏:娱乐  
D. 战士:党员
70. ( )之于蜜蜂相当于花草之于( )
- A. 昆虫——兰花  
B. 蜂蜜——草木  
C. 园丁——园艺  
D. 花粉——蝴蝶
71. ( )对于手机相当于程序对于( )
- A. 通信 言论  
B. 短信 文学  
C. 信号 电脑  
D. 电脑 文化
72. 林黛玉:《红楼梦》
- A. 《西游记》:唐僧  
B. 林冲:《三国演义》  
C. 宋江:《水浒传》  
D. 《骆驼祥子》:骆驼
73. 实践:认识
- A. 矛盾:发展  
B. 内因:外因  
C. 整体:部分  
D. 物质:意识
74. 法律:约束
- A. 新闻:广播  
B. 政策:规范  
C. 历史:借鉴  
D. 制度:学问
75. 新闻:采访( )
- A. 特技:特效  
B. 电影:剪辑  
C. 声音:图像  
D. 分数:学生
76. 宇宙飞船之于 ( ) 相当于 ( ) 之于 执政者
- A. 宇航员——国家  
B. 太阳——理想  
C. 航线——方向盘  
D. 梦想——现实
77. 郑重:谨慎:慎重
- A. 自豪:自信:自满  
B. 精美:雅致:精致  
C. 认真:细致:刻苦  
D. 懒惰:懈怠:消极
78. 兴趣:索然无味
- A. 知识:不学无术  
B. 误会:善解人意  
C. 骨气:卑躬屈膝  
D. 礼貌:盛气凌人
79. 水:温柔
- A. 热情:火  
B. 火山:变化





障

- B. 自然之友等民间组织多年来开展了各种形式的宣传活动，提高了人们的环保意识
- C. 日前众多明星应邀参加了一次慈善拍卖会，募得的善款资助失学儿童
- D. 小张是一名专业的心理咨询师，他每学期都会为附近的中小學生义务开课，讲解如何预防青少年犯罪等知识

85. 超敏反应，是指机体接受特定抗原持续刺激或同一抗原再次刺激所致的功能紊乱和组织损伤等病理性免疫反应。

根据上述定义，下列选项不属于超敏反应的是（ ）。

- A. 一朝被蛇咬，十年怕绳索
- B. 某药物虽然对治疗胃肠疾病十分有效，但也有部分患者服后出现口干、心悸等反应
- C. 某甲因长期使用激素，停药后全身出现“虚胖”现象
- D. 某患者在进行青霉素皮试后，出现了淋巴结肿大的现象

86. 心理防御机制是指个体面临挫折或冲突的紧张情境时，在其内部心理活动中具有的自觉或不自觉地解脱烦恼，减轻内心不安，以恢复心理平衡与稳定的一种适应性倾向。根据上述定义，下列不属于心理防御机制范畴的是：（ ）。

- A. 学生考试不及格时就说教师评分不公或试题太偏
- B. 运动员在遇到自己力所不及的困难训练时，产生头痛、手足麻木等症状
- C. 某职工产生对上级的不满情绪，在家中对亲人发泄出来
- D. 某人因身体发育有缺陷而努力学习，以卓越成绩赢得别人的尊重

87. 定义：

- ①感动：思想感情受外界事物的影响而激动。
- ②感叹：有所感触而叹息。
- ③意会：指个体不须明说而领会某种意思。

典型例证：

- (1) 国歌声响起，所有的观众都神情激动地跟着音乐大声地唱起来。
- (2) 忽如一夜春风来，千树万树梨花开。
- (3) 老师郑重地对我说：做人一定要诚实。

上述典型例证与定义存在对应关系的数目有（ ）。

- A. 0 个
- B. 1 个
- C. 2 个
- D. 3 个

88. 小天鹅歌舞团有小演员 45 名。关于这 45 名小演员，甲乙丙三人有如下讨论：

甲说：“这些小演员中有些是北京人。”

- 乙说：“小演员中的李欣欣不是北京人。”  
丙说：“这些小演员中有些不是北京人。”  
事实上，甲乙丙三人的话只有一句为真。  
请问，下面哪个选项为真？（ ）
- A. 45 名小演员都不是北京人  
B. 有些小演员不是北京人  
C. 李欣欣不是北京人  
D. 45 名小演员都是北京人
89. 如果高鹏远是国家体操队教练，那么他一定获得过奥运会体操冠军。  
上述论断可以基于以下前提作出，除了（ ）。
- A. 只有获得过奥运会体操冠军，才有资格当国家体操队教练  
B. 如果没有获得过奥运会体操冠军，则没有资格当国家体操队教练  
C. 如果有资格当国家体操队教练，则需获得过奥运会体操冠军  
D. 如果获得过奥运会体操冠军，则有资格当国家体操队教练
90. 小高到超市买水果，售货员问他想买什么水果，小高说：“我不像讨厌荔枝那样讨厌苹果，我不像讨厌梨那样讨厌葡萄，我不像喜欢柑橘那样喜欢苹果，我对葡萄不如对荔枝那样喜欢。”小高最后会选择的水果是（ ）
- A. 荔枝  
B. 葡萄  
C. 苹果  
D. 柑橘
91. 只有部分人能德才兼备。有的人有“德”但缺乏“才”，而有的人有“才”却没有“德”。前者虽然对社会贡献不大，但对社会没有危害；后者“才”越大对社会危害就越大。  
由此可见（ ）。
- A. “才”越大的人“德”越少  
B. 有些人“才”越小对社会越有利  
C. “才”的大小不影响人对社会贡献的多少  
D. 应当使更多的人德才兼备
92. 某工厂进行结构重组，计划减员 25%，撤销三个生产车间，这三个生产车间的人正好占工厂总人数的 25%。计划实施后，上述三个生产车间被撤销，整个工厂实际减员 15%。此过程中，工厂内部人员有所调整，但整个工厂只有减员，没有增员。  
如果上述判断为真，以下哪项一定为真？（ ）
- I. 上述计划实施后，有的生产车间调入新成员  
II. 上述计划实施后，没有一个生产车间调入的新成员的总数超出工厂原来总人数的 10%

- III. 上述计划实施后，被撤销的生产车间中的留任人员，不超过工厂原来总人数的 10%
- A. 只有 I  
B. 只有 I 和 III  
C. 只有 II 和 III  
D. I、II 和 III
93. 在欧债危机日益恶化的形势下，欧洲以及其他地区和国家的央行可能会大量印刷钞票应对，由此会形成热钱新一轮的泛滥，届时将持续提高诸如房地产等不动产的价格，因此投资者现在应该继续买进房产。以下无法削弱上述结论的一项是（ ）。
- 以下无法削弱上述结论的一项上：
- A. 为了本国经济的健康发展，许多国家将不会增发货币  
B. 当前的房地产价格平稳，短期内不会有大的波动  
C. 由于房地产市场泡沫严重，国家出台了系列打击房地产投机的政策  
D. 由于大量外来人口涌入城市，人们对于住房的刚性需求依然存在
94. 病人往往不理解在看病时，即使是小毛病也被要求做很多项检查，从而导致花费过高。而事实上如果医生不对病人进行详细检查，就有可能遗漏某些严重的问题，医生很难精确地判断他们究竟应当细致到什么程度。所以，对病人来说，当他们感到没有病时，去做医疗检查一般来说是不明智的。
- 以下最严重地削弱了上述论证的一项是（ ）。
- A. 在某些重要疾病的早期阶段，尽管病人并未感到身体不适，医生却能通过仪器的帮助观察到症状  
B. 在收入减少的情况下，医生们一直在压缩他们做医疗检查的时间  
C. 缺乏医学专业知识的病人无法判断医生做检查时究竟细致到何种程度是适宜的  
D. 有经验的医生在做医疗检查时能细致到恰到好处
95. 20 世纪 60 年代，加州大学伯克利分校进行了一系列关于小鼠认知能力的实验。在实验中，一组小鼠被放在摆满各种玩具，转轮和隧道的笼子里，另一组小鼠则在空无一物的笼子里长大，实验结果显示，前一组小鼠大脑的体积更大，认知能力也显著高于后一组，研究人员因此作出推论：充分的外界刺激可以改变大脑的结构和能力。下列哪些为真，最能加强研究人员的推论？
- A. 实验中，前一组小鼠的食物营养更丰富  
B. 实验后，后一组小鼠的运动能力超强  
C. 后来，两组小鼠的平均寿命差不多  
D. 实验前，两组小鼠的个体差异不大

96. 去年引进的外国大片《马语者》，仅仅在白山市放映了一周，各影院的总票房收入就达到800万。这一次白山市又引进了《空军一号》，准备连续放映9天，1000万元的票房收入应该能突破。

根据以上文字包含的信息，分析以上推断最可能隐含了以下哪些假设？（ ）

- A. 白山市很多人因为映期时间短都没看上《马语者》，这一次可以补偿一下了  
B. 《有马语者》作铺垫，《空军一号》的票房应该会更火爆  
C. 这两部片子的上座率、票价等将非常相似  
D. 以美国总统为题材的影片的影响力和票房号召力是巨大的
97. 科学家们运用有关原理，在其他情况保持不变的条件下，根据心肌梗塞病情发展越厉害，头发中的含钙量就相应的越加减少的事实，即头发含钙量的减少状况与心肌梗塞病情的发展之间有定量的共变关系，得出了结论：通过对头发中含钙量的分析，是可以预断心肌梗塞病情的发展状况的。
- 这一结论的得出运用了

- A. 演绎推理  
B. 归纳推理  
C. 类比推理  
D. 求因果联系的逻辑方法

98. 现在，在黄金领域进行投资将是一项有利可图的商业活动。《中国黄金》杂志的一项调查表明，该杂志读者中有88%的人正在计划最近购买一批金条，而对于黄金投资市场的研究显示，目前每年推出的金条购赎业务只能满足购买需求的70%。

下面哪项如果为真，最能对上文投资建议的正确性构成质疑？（ ）

- A. 购买金条的人中大约有一半的人为了购买金条而进行抵押贷款  
B. 在金条购赎业务开展的前两个星期里，金条只卖出了总数的20%  
C. 购买金条的人中大约有一半的人曾经有过黄金投资行为  
D. 那些宣称购买金条的人中仅仅只有20%的人最后真的购买了金条
99. 研究发现，如果开饭时间晚了几分钟，人类的婴儿就会大声哭叫，而对于3、4个月大的企鹅幼崽来说，它们却异常平静。在小企鹅的父母外出觅食时，它们甚至要适应长达几天没有食物的困境。

以下哪项如果为真，能够解释这一现象？

- A. 3、4个月大的企鹅消化系统并未发育健全，因此它们的食量相对较小  
B. 当雌企鹅去觅食时，雄性企鹅会用胃内的分泌物喂食幼崽  
C. 大企鹅外出时，小企鹅常会在夜间聚在一起互相取暖  
D. 当大企鹅不在时，小企鹅的叫声会引来天敌
100. 真正高明的伪造家制造的钞票从不会被发现，所以一旦他的作品被认出是伪造的，则伪造

者不是位高明的伪造者，真正的伪造家从不会被抓到。

下列推理方式与这段话类似的是（ ）。

- A. 小张是一个玩魔术的专家，他的魔术总能掩人耳目，从未被揭穿，所以他是一个高明的魔术师
- B. 小张是一个玩魔术的人，他的魔术一般不会被揭穿，偶尔有一两次被人看穿，但这不妨碍他是一名优秀的魔术师
- C. 小张是一个玩魔术的人，他的魔术一般不会被人揭穿，偶尔有一两次被人看穿，说明他并不是一个高明的魔术师，因为高明的魔术师不会被人看穿
- D. 小张的魔术很好，从不会被揭穿，所以他是个优秀的魔术师

【参考答案】有问题请加新浪微博：@蔡金龙

51-55	56-60	61-65	66-70	71-75
DCDDA	ACCAA	DCBBC	AABDA	CCDBB
76-80	81-85	86-90	91-95	96-100
ABCCB	ACACA	ACDDD	BADAD	CDDDC

## 资料分析部分

101. 表 1 2010 年一季度我国水产品主要进口来源地(进口额前 7 位)

	进口量 (万吨)	同比增长率 (%)	进口额 (亿美元)	同比增长率 (%)
俄罗斯	33.20	57.10	4.63	52.30
秘鲁	15.16	-15.63	2.08	31.29
东盟	7.63	18.40	1.20	32.40
美国	6.88	59.30	1.13	42.00
智利	5.24	-40.10	1.11	5.70
挪威	3.88	54.87	0.85	67.31
日本	4.09	80.30	0.65	87.40

2010 年一季度，我国水产品主要进口来源地，按进口量从小到大排序正确的是：（ ）

- A. 日本—挪威—美国
- B. 秘鲁—东盟—日本
- C. 挪威—美国—东盟
- D. 东盟—智利—俄罗斯

102. 2010 年底，全国高速公路里程为 7.41 万公里，居世界第二位，比“十一五”规划目标增加 9108 公里。

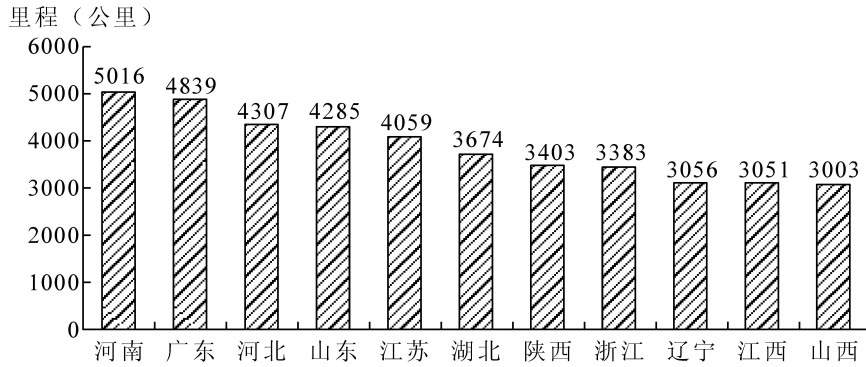


图2 2010年底部分省份高速公路里程

2010年底，高速公路里程超过全国总里程5%省份有几个？

- A. 5  
B. 6  
C. 7  
D. 8

103. 2011年A市全年对美国出口590万美元，比上年下降24%。2010年A市对美国出口额约为（ ）。

- A. 776万美元  
B. 732万美元  
C. 448万美元  
D. 484万美元

104. 2009年4月份，国内乘用车销量持续上升，当月销售已达83.1万辆，比3月份增长7.59%，同比增长37.37%。其中，轿车、MPV、SUV和交叉型乘用车销量占4月份乘用车总销量的比重分别为71%、2%、6%和21%。MPV销量比3月份下降3.54%，同比下降4.05%；SUV销量比3月份增长19.27%，同比增长22.55%。

2008年4月，SUV销量比MPV销量约：

- A. 少3.4万辆  
B. 少2.3万辆  
C. 多3.4万辆  
D. 多2.3万辆

105.

2010年1~4月全国入境旅游部分市场客源情况统计表

按1~4月入境旅游人数排序	国家名称	4月份		1~4月累计	
		入境人数（万人）	同比增长（%）	入境人数（万人）	同比增长（%）
1	韩国	33.65	27.33	126.96	24.12
2	日本	30.75	22.25	119.71	19.83
3	美国	17.62	16.53	60.67	16.08
4	俄罗斯	16.03	40.78	60.57	29.62
5	马来西亚	11.72	8.52	37.96	10.24

2009年4月我国入境旅游的第三大客源市场是：（ ）

- A. 美国  
B. 日本



C. 俄罗斯

D. 马来西亚

106.

2010年1~4月全国入境旅游部分市场客源情况统计表

按1~4月 入境旅游 人数排序	国家名称	4月份		1~4月累计	
		入境人数 (万人)	同比增长 (%)	入境人数 (万人)	同比增长 (%)
13	英国	5.03	-2.37	18.32	5.61
16	法国	4.44	6.80	15.11	15.40

若保持同比增长率不变, 预计哪一年4月入境旅游的法国游客人数将会超过英国?

A. 2011

B. 2012

C. 2013

D. 2014

107. 2010年1~3月, 法国货物贸易进出口总额为2734.4亿美元, 同比增长13.4%。其中, 出口1264.7亿美元, 同比增长14.5%; 进口1469.7亿美元, 同比增长12.4%; 逆差205.0亿美元, 同比增长1.0%。

2010年1~3月, 法国货物贸易出口额比上年同期增长了约多少?( )

A. 120亿美元

B. 140亿美元

C. 160亿美元

D. 180亿美元

108. 2010年1~6月, 全国电信业务收入总量累计完成14860.7亿元, 比上年同期增长21.4%; 电信主营业务收入累计完成4345.5亿元, 比上年同期增长5.9%。

2010年1~6月我国电信业务收入总量累计比上年同期增长( )。

A. 2476.7亿元

B. 2619.6亿元

C. 2972.0亿元

D. 3180.2亿元

109. 2009年, 全年棉花产量640万吨, 比上年减产14.6%。油料产量3100万吨, 增产5.0%。糖料产量12200万吨, 减产9.1%。烤烟产量280万吨, 增产6.7%。茶叶产量135万吨, 增产7.1%。

与上年相比, 下列农作物中2009年增产量最多的是( )。

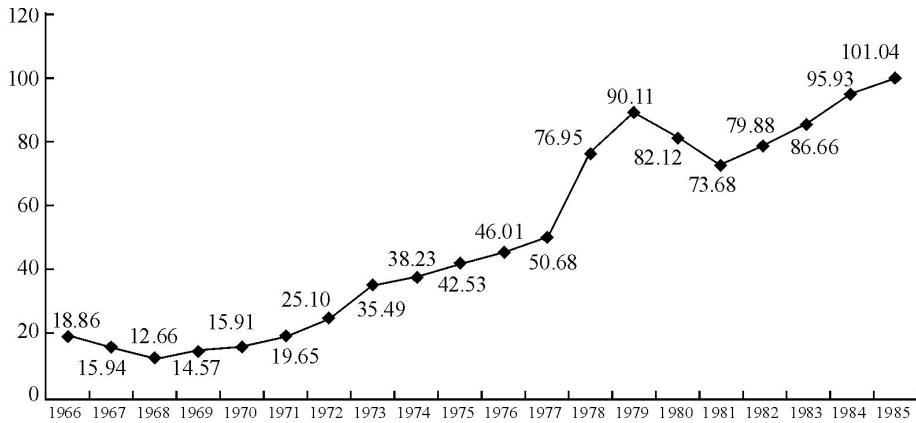
A. 糖料

B. 烤烟

C. 茶叶

D. 油料

110.



支援农村生产支出和农林水利气象等部分的事业费 (亿元)

1967 年与 1966 年比较, 支援农村生产支出和农林水利气象等部门的事业费 ( )。

- A. 降低了 115.5%
- B. 降低了 55.5%
- C. 降低了 15.5%
- D. 降低了 105.5%

111.

江西省各设区市城镇居民人均可支配收入和人均消费性支出情况 (单位: 元)

地区	2009 年		2010 年	
	人均可支配收入	人均消费性支出	人均可支配收入	人均消费性支出
全省	14022	9740	15481	10619

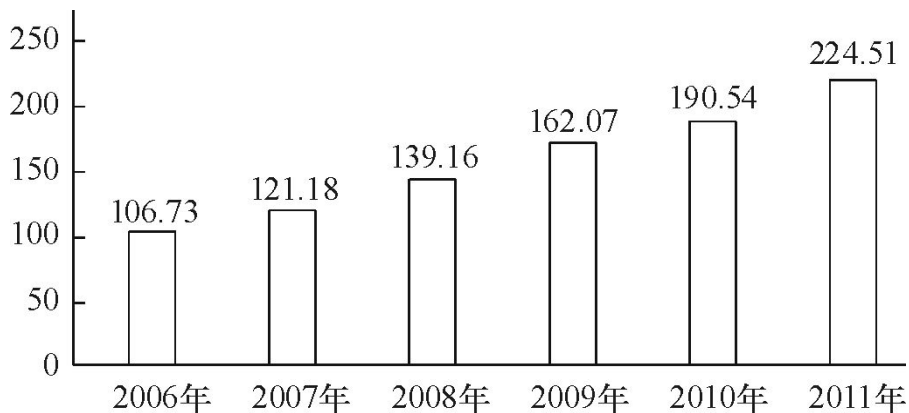
2010 年全省城镇居民人均消费性支出增长约:

- A. 9%
- B. 10%
- C. 11%
- D. 12%

112.

2011 年, 我国累计出国留学人数比 1978 年规模扩大了 375 倍。

从 1978 年起累计出国留学总人数 (万人)



2011 年当年出国留学人数较 1978 年翻了 ( )。

- A. 接近 3 番
- B. 接近 4 番



过夜入境旅游者	10.54	56.1	81.46	22.8
---------	-------	------	-------	------

表2 该省2011年12月及全年接待过夜游客的旅游收入情况

项目	12月份 (亿元)	同比增长 (%)	全年 (亿元)	同比增长 (%)
接待过夜游客旅游总收入	33.94	37.6	324.04	25.8

下列2011年1—11月该省旅游统计数据中,同比增长速度大于全年的是( )。

- A. 接待过夜境内旅游者收入      B. 宾馆平均开房率  
C. 旅游饭店接待过夜的境内游客人数      D. 接待过夜入境旅游者人数

117.

江西省各设区市城镇居民人均可支配收入和人均消费性支出情况(单位:元)

地区	2009年		2010年	
	人均可支配收入	人均消费性支出	人均可支配收入	人均消费性支出
抚州	13119	6697	14445	7474

抚州市2010年城镇居民人均可支配收入中用于消费性支出的比例约:

- A. 68.6%      B. 51.7%  
C. 76.1%      D. 57.2%

118.

某市保险行业主要经济数据:

年份	各类保险营业网点(个)	财产险保费收入(亿元)	人身险保费收入(亿元)	财产险赔款支出(亿元)	人身险给付支出(亿元)
2005	224	9.73	25.47	6.44	3.77
2006	247	12.84	30.75	8.09	4.53
2007	311	17.70	40.84	9.40	8.99
2008	378	20.09	59.73	12.29	12.27
2009	116	23.11	68.21	12.97	12.45
2010	365	33.13	86.41	14.29	11.55

2005—2010年财产险每年赔款支出与保费收入之比大约在什么范围内?( )

- A. 10%—25%      B. 20%—50%  
C. 40%—70%      D. 60%—90%

119. 2009年全国海洋生产总值31964亿元,比上年增长8.6%。全国海洋生产总值占国内生产总值的9.53%,占沿海地区生产总值的15.5%。海洋第一产业增加值1879亿元,海洋第二产业增加值15062亿元,海洋第三产业增加值15023亿元。

2009年我国海洋经济三次产业值的比重约为( )。

- A. 5.9: 47.3: 46.8      B. 5.9: 47.1: 47.0  
C. 7.2: 47.3: 45.5      D. 7.2: 47.0: 45.8







126.

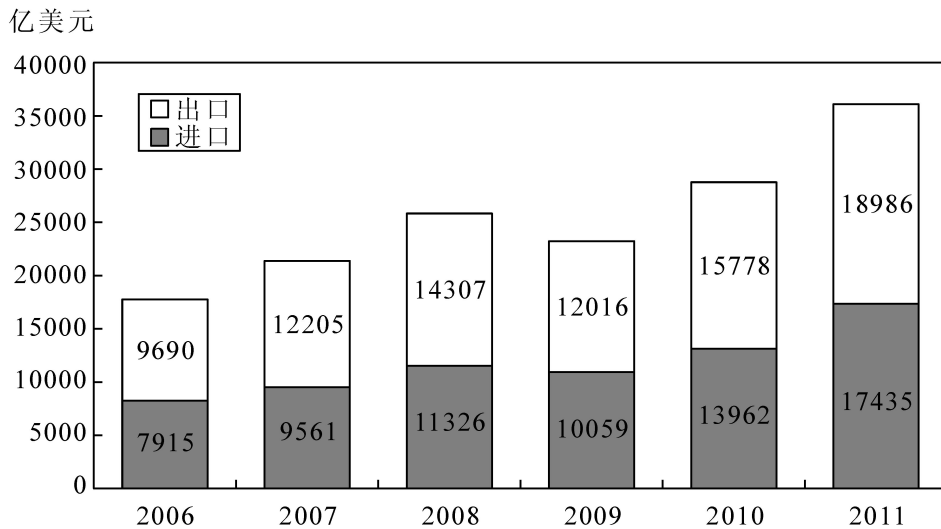
2010年1~4月全国入境旅游部分市场客源情况统计表

按1~4月入境旅游人数排序	国家名称	4月份		1~4月累计	
		入境人数(万人)	同比增长(%)	入境人数(万人)	同比增长(%)
2	日本	30.75	22.25	119.71	19.83

2009年1~3月, 入境旅游的日本游客人数约为: ( )

- A. 105.86万人                      B. 91.11万人  
C. 88.96万人                      D. 74.75万人

127.



2006—2010年货物进出口总额

2007—2011年我国全年货物出口额与上一年相比增长超过30%的年份有几个? ( )

- A. 1个                                  B. 2个  
C. 3个                                  D. 4个

128.

当年非蓝天日数排名前10位的城市

城市	天数	上年同期 天数	排名		上年同期 排名
			排名	变化	
兰州	141	121	1	→	1
乌鲁木齐	105	101	2	→	2
北京	79	81	3	→	3
合肥	76	36	4	↑	29





D.印度、中国、南非、巴西、俄罗斯

136.按消费形态分，2011年8月份，餐饮收入1717亿元，同比增长16.7%；商品零售额12988亿元，增长17.0%。

2010年8月商品零售额比餐饮收入高多少亿元？（ ）

- A. 9630
- B. 11271
- C. 12988
- D. 11101

137.2009年4月份中国汽车产销数据显示，在其他国家汽车销售进一步疲软的情况下，国内乘用车销量却持续上升，当月销售已达83.1万辆，比3月份增长7.59%，同比增长37.37%。乘用车细分为基本型乘用车（轿车）、多功能车（MPV）、运动型多用途车（SUV）和交叉乘用车。其中，轿车销量比3月份增长8.3%，同比增长33.04%；MPV销量比3月份下降3.54%，同比下降4.05%；SUV销量比3月份增长19.27%，同比增长22.55%；交叉型乘用车销量比3月份增长3.62%，同比增长70.66%。轿车、MPV、SUV和交叉型乘用车销量占4月份乘用车总销量的比重分别为71%、2%、6%和21%。

关于2009年3月份各种车型销量在总销量中所占比重的描述，以下正确的是：

- A.MPV超过2%
- B.交叉型乘用车低于21%
- C.SUV超过6%
- D.轿车超过71%

138. 2010年1~4月全国入境旅游部分市场客源情况统计表

按1~4月 入境旅游 人数排序	国家名称	4月份		1~4月累计	
		入境人数 (万人)	同比增长 (%)	入境人数 (万人)	同比增长 (%)
1	韩国	33.65	27.33	126.96	24.12
2	日本	30.75	22.25	119.71	19.83
3	美国	17.62	16.53	60.67	16.08
4	俄罗斯	16.03	40.78	60.57	29.62
5	马来西亚	11.72	8.52	37.96	10.24
6	新加坡	8.47	8.12	29.47	11.41
7	菲律宾	7.43	2.48	26.51	5.50
8	泰国	7.89	15.22	22.58	8.76
9	加拿大	5.67	19.13	20.63	16.47
10	澳大利亚	5.73	6.73	20.61	12.69
11	蒙古	5.74	27.75	19.54	35.51
12	德国	4.93	3.95	18.80	13.51
13	英国	5.03	-2.37	18.32	5.61
14	印度	5.33	36.37	16.23	23.55
15	印尼	5.15	33.79	15.96	25.61
16	法国	4.44	6.80	15.11	15.40

2009年4月我国入境旅游的第三大客源市场是：（ ）

- A.美国  
B.日本  
C.俄罗斯  
D.马来西亚

139.截至 2011 年 4 月 21 日 22 时，沪深两市已有 534 家上市公司第一季度财报。这 534 家公司实现营业总收入 4572.78 亿元，同比增长 30.74%；实现将利润 336.7 亿元，同比增长 30.52%。不过，一季度销售收入和净利润环比则有所下降，其中营业总收入环比下降 12%，将利润环比下降 25%。

已公布一季报的 534 家公司，平均每家在 2010 年第四季度实现营业收入约多少亿元？

- A.0.63  
B.7.54  
C.8.56  
D.9.73

【参考答案】有问题请加新浪微博：@华图教育-刘有珍

101-105	106-110	111-115	116-120	121-125
CAADA	BCBDC	ADDDDB	BBCBA	AAABA
126-130	131-135	136-140		
DCAAD	BCCAC	AAAD		

## ■ 华图网校介绍

华图网校（V.HUATU.COM）于2007年3月由华图教育投资创立，是华图教育旗下的远程教育高端品牌。她专注于公职培训，目前拥有遍及全国各地500万注册用户，已成为公职类考生学习提高的专业门户网站。

华图网校是教育部中国远程教育理事单位。她拥有全球最尖端高清录播互动技术和国际领先的网络课程设计思想，融汇华图教育十余年公职辅导模块教学法，凭借强大师资力量与教学资源、利用教育与互联网的完美结合，真正为考生带来“乐享品质”的学习体验，通过“高效学习”成就品质人生。

华图网校课程丰富多元，涵盖公务员、事业单位、招警、法院、检察院、军转干、选调生、村官、政法干警、三支一扶、乡镇公务员、党政公选等热门考试、晋升及选拔。同时，华图网校坚持以人为本的原则，不断吸引清华、北大等高端人才加入经营管理，优化课程学习平台，提升用户体验，探索网络教育新技术和教学思想，力争为考生提供高效、个性、互动、智能的高品质课程和服务。

华图网校将秉承“以教育推动社会进步”的使命，加快网站国际化进程，打造全球一流的网络学习平台。

我们的使命：以教育推动社会进步

我们的愿景：德聚最优秀人才，仁就基业长青的教育机构

我们的价值观：诚信为根、质量为本、知难而进、开拓创新。

- 咨询电话：400-678-1009
- 听课网址：v.huatu.com（华图网校）